

«На Урок»


Баскетбол

ПІБ: _____


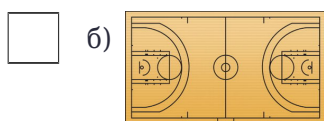
Клас: _____

Дата: _____


1. Яка країна стала Батьківщиною баскетболу?





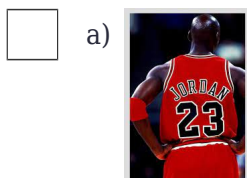
2. Знайдіть на малюнку ігровий майданчик у баскетболі.




3. На якому малюнку зображено заслон у баскетболі?



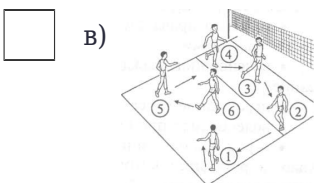
4. Хто був засновником гри у баскетбол?



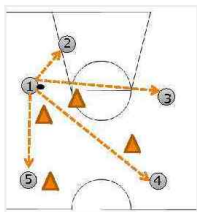
5. Що таке дриблінг? Знайдіть на малюнку



6. Виберіть правильну позицію гравців на полі?



7.



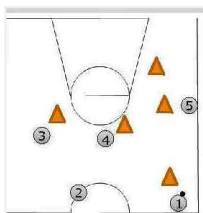
Гравець 1 володіє м'ячем на своєму майданчику. Якому гравцеві найкраще передати м'яч?

а) Гравцю № 4

б) Гравцю № 3

в) Гравцю № 2

8.



Гравець 1 володіє м'ячем на чужій половині майданчика. Якому гравцеві доцільно передати м'яч, щоб не зірвати атаку?

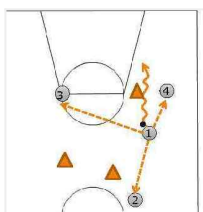
а) Гравцю 2

б) Гравцю 3

в) Гравцю 4

г) Гравцю 5

9.



Гравець 1 веде м'яч на чужій половині майданчика. Яке слід прийняти рішення?

а) Атакувати кільце самому

б) Передати м'яч гравцеві 2

в) Передати м'яч гравцеві 3

г) Передати м'яч гравцеві 4

10. З якої смуги виконується 3 очковий кидок ?







Ключ до тесту

1. а (1 балів)

2. б (1 балів)

3. в (1 балів)

4. б (1 балів)

5. а (1 балів)

6. б (1 балів)

7. в (2 балів)

8. а (2 балів)

9. в (1 балів)

10. в (1 балів)